

Н. О. Будна

МАТЕМАТИКА

1 ПЕРШИЙ ВАРІАНТ

ДІАГНОСТИЧНІ РОБОТИ

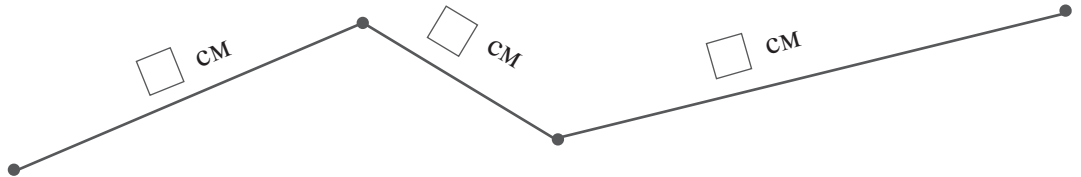
уч _____ з _____ класу

*Схвалено для використання у закладах загальної середньої освіти
комісією з педагогіки та методики початкового навчання
Науково-методичної ради з питань освіти
Міністерства освіти і науки України
(лист ІМЗО від 31.07.2020 № 22.1/12-Г-709)*




ТЕРНОПІЛЬ
НАВЧАЛЬНА КНИГА – БОГДАН


7. Виміряй довжину кожної ланки ламаної. Обчисли загальну довжину ламаної.



8*. У класі 15 дівчаток, їх на 7 більше, ніж хлопчиків. Скільки учнів у класі?



Аналіз роботи



4. Порівняй.

$58 + 25 \square 58 + 24$

$93 - 47 \square 93 - 42$

$49 + 38 \square 38 + 94$

$55 - 29 \square 58 - 29$



5. Виконай дії.

$18 \text{ см} + 20 \text{ см}$


$1 \text{ м} - 52 \text{ см}$

$6 \text{ дм} - 32 \text{ см}$

$52 \text{ см} - 18 \text{ см}$

$1 \text{ м} - 3 \text{ дм}$


$1 \text{ м} - 2 \text{ дм} 5 \text{ см}$



6. Розв'яжи рівняння.

$x - 44 = 28$

$64 - x = 15$



7. Накресли прямокутник зі сторонами завдовжки 2 см і 9 см. Обчисли його периметр.

Кінець безкоштовного уривку. Щоби читати далі, придбайте, будь ласка, повну версію книги.