

Т.Б. Будна

МАТЕМАТИКА

Зошит-тренажер

1 клас

У двох частинах
Частина 2



ТЕРНОПІЛЬ
НАВЧАЛЬНА КНИГА – БОГДАН

УДК 51.372.47
ББК 74.262.21я71
Б 90

Рецензенти:
кандидат педагогічних наук, доцент
Козак М.В.
вчитель вищої категорії, старший вчитель
Шост Н.Б.

Будна Т.Б.
Б 90 Математика. Зошит-тренажер : 1 клас: у 2 ч. Ч. 2 /
Т.Б. Будна. — Тернопіль : Навчальна книга – Богдан,
2013. — 48 с.

ISBN 978-966-10-3182-0

У посібнику запропоновано оригінальні завдання, які допоможуть першокласнику повторити у цікавій формі матеріал з математики. Вміщені тут вправи сприятимуть розвитку математичного мислення, пам'яті, уваги і уяви, створять незабутній емоційний стан і почуття впевненості у своїх силах, відчуття перемоги.

Для вчителів та учнів 1 класу.

УДК 51.342.47
ББК 74.262.21я71

*Охороняється законом про авторське право.
Жодна частина цього видання не може бути відтворена
в будь-якому вигляді без дозволу автора чи видавництва.*

ЗАПИСУЄМО ЧИСЛА

1. Напиши числа.

1	2	3	1	2	3										
4	5	6	4	5	6										
7	8	9	7	8	9										

2. Впиши пропущені числа.

1	.	3	.	.	6	7	.	9
10	9	.	.	.	5	.	.	2


3. Запиши подані числа в порядку зростання.

9, 1, 3, 10, 7, 5.

--	--	--	--	--	--	--	--	--	--	--	--	--	--	--	--	--	--	--

4. Запиши «сусідів» даних чисел.

.	3	.		.	5	.		.	8	.		.	9	.	
---	---	---	--	---	---	---	--	---	---	---	--	---	---	---	--


5.  $3 \square 5$ $10 \square 9$ $7 \square 7$
 $4 \square 4$ $1 \square 10$ $7 \square 8$

ТРЕНУЄМОСЯ ДОДАВАТИ

1. Обчисли.

$6 + 3 = .$	$3 + 4 = .$
$5 + 3 = .$	$7 + 2 = .$
$4 + 3 = .$	$9 + 1 = .$
$3 + 3 = .$	$8 + 2 = .$
$2 + 4 = .$	$6 + 1 = .$
$5 + 1 = .$	$4 + 2 = .$
$6 + 2 = .$	$5 + 2 = .$
$7 + 3 = .$	$1 + 8 = .$

2. Склади і запиши свої рівності.




ТРЕНУЄМОСЯ ВІДНІМАТИ

1. Обчисли.

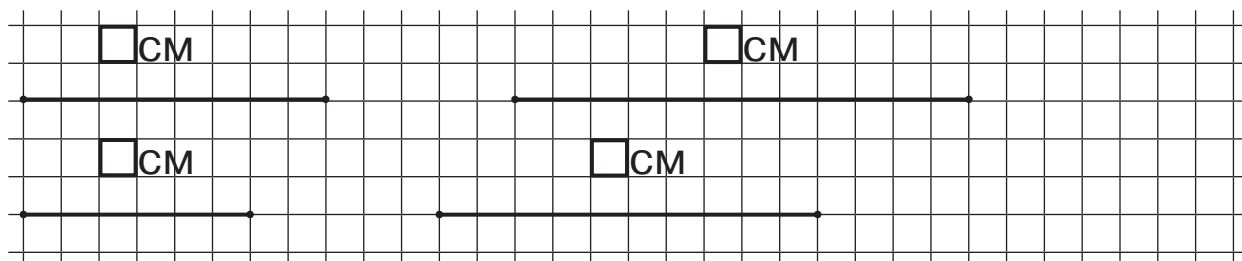
$9 - 1 = .$	$10 - 1 = .$
$3 - 2 = .$	$10 - 2 = .$
$8 - 4 = .$	$10 - 6 = .$
$8 - 5 = .$	$10 - 8 = .$
$7 - 6 = .$	$10 - 3 = .$
$9 - 3 = .$	$10 - 4 = .$
$6 - 4 = .$	$10 - 5 = .$
$9 - 2 = .$	$10 - 7 = .$

2. Склади і запиши свої рівності.



КРЕСЛИМО ВІДРІЗКИ

1. Виміряй і познач довжини даних відрізків.



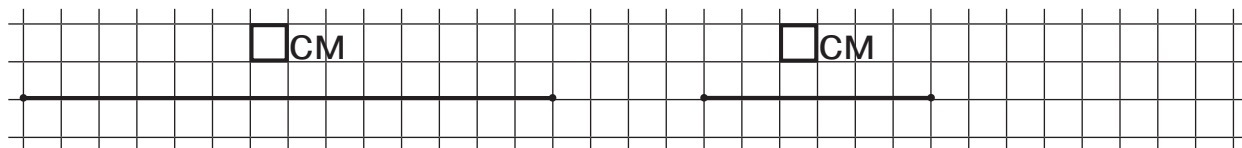
2. Накресли відрізок завдовжки 5 см. Збільш його на 1 см.



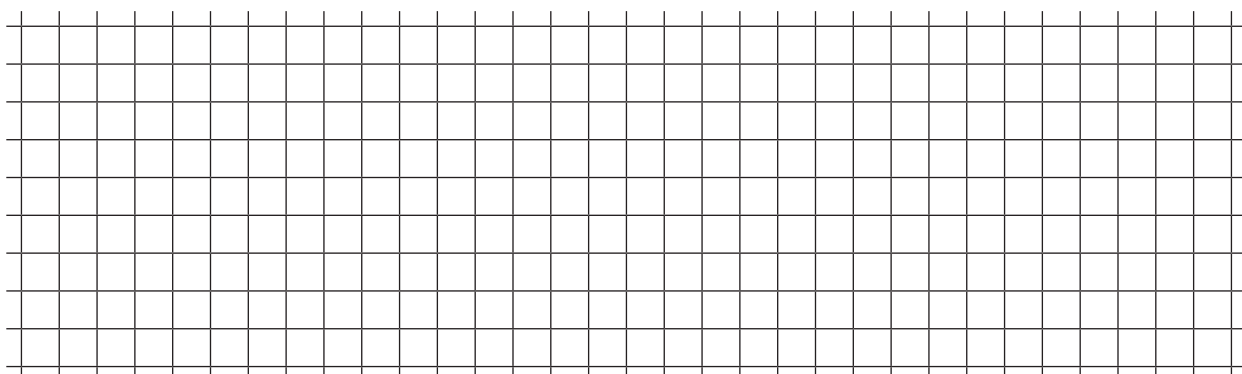
3. Накресли відрізок завдовжки 7 см. Зменш його на 2 см.



4. Виміряй довжини відрізків. На скільки сантиметрів довжина першого відрізка більша від довжини другого?



5. Придумай і запиши своє завдання.



РОЗВ'ЯЗУЄМО ЗАДАЧІ

1.

БУЛО



ПРИЛЕТІЛО

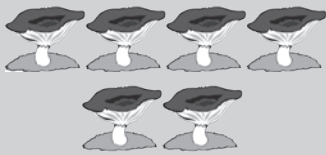


СТАЛО

?

$$\square + \square = \square \text{ (б.)}$$

2.



РАЗОМ

?

$$\square + \square = \square \text{ (гр.)}$$

3.

ПАСЛОСЯ



**ПІШЛО
ДОДОМУ**



ЗАЛИШИЛОСЯ

?

$$\square - \square = \square \text{ (к.)}$$

4.

БУЛО



ВИТРАТИЛИ

10 копійок

ЗАЛИШИЛОСЯ

?

$$\square - \square = \square \text{ (к.)}$$

Кінець безкоштовного уривку. Щоби читати далі,
придбайте, будь ласка, повну версію книги.