

МАТЕМАТИКА



Т.Б. Будна

МАТЕМАТИКА

5+



ТЕРНОПІЛЬ
НАВЧАЛЬНА КНИГА – БОГДАН

Лічба в межах 5

З'єднай кожен зображену кількість предметів із відповідним числом за зразком.

1 2 3 4 5

З'єднай крапки за порядком зростання поданих чисел. Що потрібно зробити, щоб утворився квадрат?

2 • • 3

1 • • 4

Склад чисел 2, 3, 4, 5

Заповни таблиці за зразком.

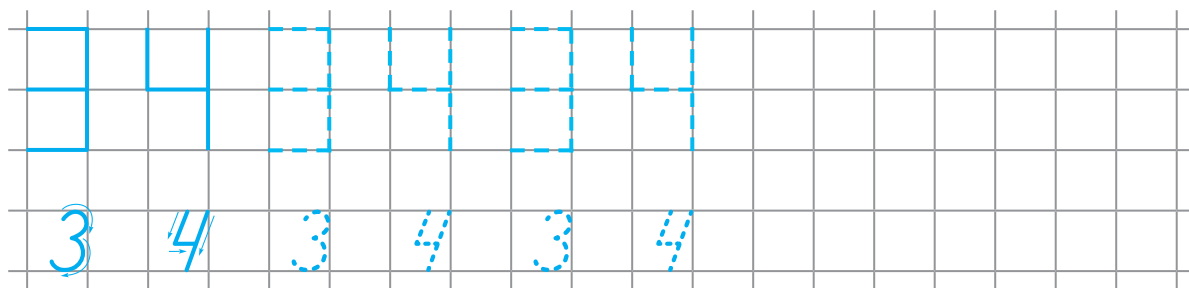

| | |
|---|--|
| 2 | |
| | |

| | | |
|---|-----|-----|
| 3 | • | • • |
| | • • | • |

| | | | |
|---|--|--|--|
| 4 | | | |
| | | | |





| | | | | |
|---|--|--|--|--|
| 5 | | | | |
| | | | | |

Порівняй.



Додавання і віднімання в межах 5

З'єднай картки так, щоб сума предметів, зображених на них, дорівнювала 5.



Було

Прийшло

Стало



?

$$\square + \square = \square$$

Було


Зірвали

Залишилося



?

$$\square - \square = \square$$



Кінець
безкоштовного
уривку. Щоби читати
далі, придбайте,
будь ласка, повну
версію книги.