

ТЯМУЩИЙ



ДОШКОЛЯРИК

Тетяна Бугна

# МАТЕМАТИКА



Т.Б. Будна


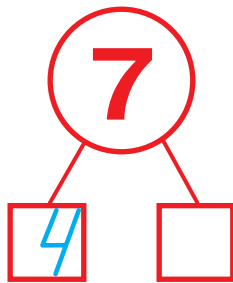

# МАТЕМАТИКА

6+



ТЕРНОПІЛЬ  
НАВЧАЛЬНА КНИГА – БОГДАН



✿ Встав пропущені числа.



Спекли

З'їли



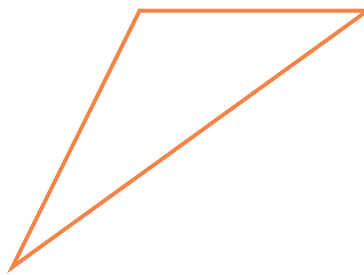


Залишилося



$$\square \square \square - \square \square = \square$$



Назви зображені геометричні фігури. Розфарбуй (або заштрихуй) фігури, у яких три кути.



Запиши й обчисли.



	+		=		
--	---	--	---	--	--



	+		=	
--	---	--	---	--



	-		=	
--	---	--	---	--



	-		=	
--	---	--	---	--

У першому  
кошику



У другому  
кошику

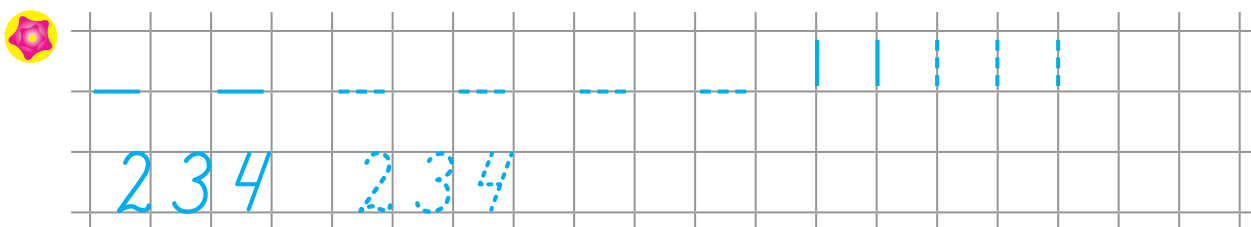





Всього






			=	
--	--	--	---	--

Домалюй стільки геометричних фігур, щоб у кожній рамочці їх стало по 4.



Встав пропущені числа.



Летіло

Приєдналося  
до гурту

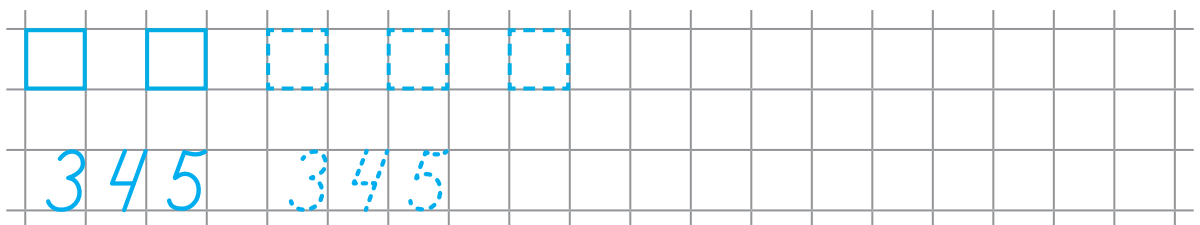

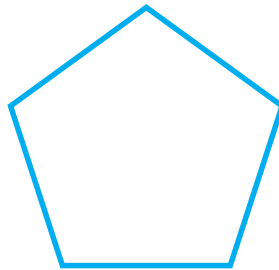

Стало



$$\square \square \square = \square$$



Заштрихуй п'ятикутник.



Кінець  
безкоштовного  
уривку. Щоби читати  
далі, придбайте,  
будь ласка, повну  
версію книги.